

Eksamen 24. mai 2011. Løsningsforslag

Oppgave 1. Flervalgsspørsmål

Oppgave:	a	b	c	d	e	f	g	h	i	j	k
Rett svar:	A	D	E	A	C	B	D	E	A	D	B

Detaljer om spørsmålene:

- a) A. Mellom Q_1 og Q_2 må feltene gå i samme retning og kan ikke nulles ut. Utenfor ladningene går feltene i motsatt retning. Pkt. 5 er nærmere den sterkere Q_2 enn Q_1 og feltet kan ikke nulles ut. På venstre side er avstanden fra den sterkere Q_2 større enn Q_1 og feltene kan nulles ut. Når det er gitt at et av punktene er feltet lik null, må det være i punkt 1.
- b) D. All ladning fordeles ut til det ytre av ledersystemet, som altså er på utsida av metallskallet. Metallkula får null ladning.
- c) E. $Q = CV = \epsilon_r \epsilon_0 A/d \cdot V$. Spenningen er konstant 100 V og permittiviteten øker, derfor øker Q .
- d) A. Fra tips: Kravet $\oint \vec{E} \cdot d\vec{s} = 0$ på kvadratet er oppfylt kun for A. F.eks. for B får vi et positivt bidrag på høyre sidekant som ikke oppveies av venstre sidekant. Tilsvarende for C, D og E.
Alternativ fra kravet om curlfritt \vec{E} -felt: $\vec{\nabla} \times \vec{E} = \vec{0}$ som når $E_y = 0$ og $\frac{\partial}{\partial y} = 0$ gir $(\frac{\partial E_z}{\partial x} - \frac{\partial E_x}{\partial z}) \hat{j} = \vec{0}$. $\frac{\partial E_z}{\partial x} = \frac{\partial E_x}{\partial z}$ er oppfylt bare for A.
- e) C. Ladningene på samme linja som P vil gi netto null E. De to andre gir like stort bidrag i retning henholdsvis opp til høyre og ned til høyre. Resultantfelt blir da horisontalt mot høyre, vist med $\vec{3}$.
- f) B. E -feltet rundt hver pkt.ladning er $E(r = a) = kQ/a^2$. Potensialet relativt ∞ rundt hver pkt.ladning er $V(r = a) = kQ/a$. Med to positive og to negative ladninger i samme avstand er $E = 0$ og $V = 0$ i P.
- g) D. Strømampl. i L avtar lineært med frekvens: $I_L = V_0/Z_L = V_0/j\omega L$. Strømampl. i C øker lineært med frekvens: $I_C = V_0/Z_C = V_0 \cdot i\omega C$. Totalstrømmen $I = I_L + I_C$ må da ha et minimum. Man kan beregne uttrykk for kompleks impedans om man ønsker: $Z = i\omega L / (1/i\omega C) = \frac{i\omega L}{1-\omega^2 LC}$. Gir $I = V_0/Z$ min. for $\omega^2 = 1/(LC)$.
- h) E. Retningen på magnetfeltet rundt den vertikale lederen er asimutalt i et horisontalt plan. Krafta på den horisontale lederen er null i det nærmeste punktet, og for alle andre punkter vil krafta på to punkter like langt fra dette midtpunktet kansellere med like stor i hver retning. Det vil derimot være et netto dreiemoment på lederen.
- i) A. $B = \mu H = (1 + \chi)H$ der χ er magn. susceptibilitet. Når B faller med 0,005 % når I og dermed H er konstant, er $\chi = -5 \cdot 10^{-5}$.
- j) D. Hastighetskomponenten $v_0 \hat{k}$ parallelt med \vec{B} forblir uendra (Lorentzkrafta $\vec{F} = q\vec{v} \times \vec{B}$) mens hastighetskomponenten $v_0 \hat{j}$ normalt på \vec{B} gir en sirkelbevegelse med uendra banefart v_0 . Ifølge Lorentzkrafta og sentripetalkraft: $qv_0 B_0 = m_e v_0^2 / r$, som gir $r = m_e v_0 / e B_0$. Konstant stigning pluss sirkel er en heliksbevegelse.
- k) B. Netto magnetisk fluks gjennom en lukket overflate er alltid lik null.

Oppgave 2. Dielektrikum.

a) Siden det er samme strøm ut som inn er $Q_3 = -Q_1 = -It_0$. Plate 2 sin side mot a får ladning $-Q_1$ (negativ) og mot side b $-Q_3$ (positiv), totalt (netto) $Q_2 = -Q_1 - Q_3 = -It_0 + It_0 = 0$.

b) Inni elektrisk ledere er $E = 0$ og $D = 0$. Mellom leder 1 og 2 samt mellom 2 og 3 må \vec{D} ha retning fra positiv til negativ ladning, dvs. $\vec{D}_a = D_a \hat{i}$ og $\vec{D}_b = D_b \hat{i}$. Legger inn Gaussflate med sidekanter langs sideveggene og endeflater parallell med lederflatene:

$$\oint_S \vec{D} d\vec{A} = Q.$$

Gaussflate med én endeflate i plate 1 og én endeflate i område a gir:

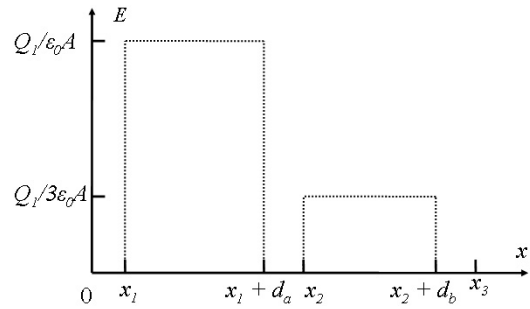
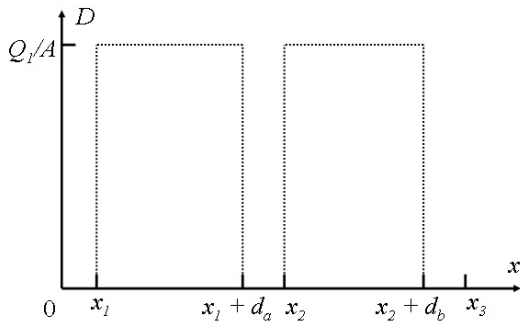
$$0 + D_a \hat{i} \cdot A \hat{i} = Q_1 \Rightarrow \underline{D_a = Q_1/A = It_0/A}.$$

Gaussflate med én endeflate i område b og én endeflate i plate 3:

$$0 + D_b \hat{\mathbf{i}} \cdot (-A \hat{\mathbf{i}}) = Q_3 \Rightarrow \underline{D_b = -Q_3/A = Q_1/A = It_0/A.}$$

$\vec{D} = \epsilon_r \epsilon_0 \vec{E}$ gir for \vec{E} :

$$\vec{E}_a = \frac{\vec{D}_a}{\epsilon_0} = \frac{Q_1}{\epsilon_0 A} \hat{\mathbf{i}} \quad \text{og} \quad \vec{E}_b = \frac{\vec{D}_b}{3\epsilon_0} = \frac{Q_1}{3\epsilon_0 A} \hat{\mathbf{i}}.$$



c)

$$V_{13} = V_1 - V_3 = - \int_3^1 \vec{E} \cdot d\vec{s} = E_a d_a + E_b d_b = \frac{Q_1}{\epsilon_0 A} (d_a + d_b/3).$$

$$C = \frac{Q_1}{V_{13}} = \epsilon_0 \frac{A}{d_a + d_b/3}.$$

d) Polariseringen P er gitt ved $D = \epsilon_0 E + P$, som gir $P = D - \epsilon_0 E = (\epsilon - \epsilon_0)E$.

$$\underline{P_a = (\epsilon_0 - \epsilon_0)E_a = 0} \quad \text{og} \quad \underline{P_b = (3\epsilon_0 - \epsilon_0)E_b = 2\epsilon_0 \frac{Q_1}{3\epsilon_0 A} = \frac{2}{3} \frac{Q_1}{A}.}$$

(Retningen som D , men ikke spurt etter vektorstørrelse.)

e) For $t < t_0$ er fra pkt a) og b)

$$D_b(t) = D_a(t) = Q_1(t)/A = It/A$$

Da er forskyvningsstrøm i medium a og medium b like og kan uttrykkes

$$\underline{I_b = I_a} = \int \int \frac{\partial \vec{D}_a}{\partial t} \cdot d\vec{A} = \frac{\partial D_a(t)}{\partial t} A = \frac{I}{A} A = \underline{I}.$$

Oppgave 3. Magnetisk induksjon

a) Biot-Savart:

$$d\vec{B} = \frac{\mu_0 I}{4\pi} \frac{d\vec{s} \times \vec{r}}{r^3}$$

med $d\vec{s}$ langs sirkelen og $r^2 = a^2 + x^2$. Siden $d\vec{s} \perp \vec{r}$ vil $d\vec{B}$ ha størrelse

$$dB = \frac{\mu_0 I}{4\pi} \frac{ds}{r^2} \quad \text{og} \quad dB_x = dB \cdot \sin \theta = dB \cdot a/r,$$

mens de andre komponentene blir null når vi integrerer rundt sirkelen. Integrasjon over hele sirkelsløyfa gir

$$B_x = \oint dB_x = \frac{\mu_0 I}{4\pi} \oint \frac{ds}{r^2} \frac{a}{r}$$

og idet r er konstant under integrasjonen og $\oint ds = 2\pi a$, får vi

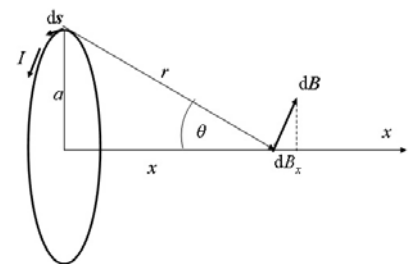
$$\vec{B} = B_x \hat{\mathbf{i}} = \frac{\mu_0 I}{4\pi} 2\pi a \frac{a}{r^3} \hat{\mathbf{i}} = \underline{\underline{\frac{\mu_0 I}{2} \frac{a^2}{(x^2 + a^2)^{3/2}} \hat{\mathbf{i}}.}}$$

som skulle vises.

b) Fluks gjennom den andre sløyfa p.g.a. strømmen i den første:

$$\Phi_{12} = B_x \pi b^2 = \frac{\mu_0 I_1}{2} \frac{a^2}{(x^2 + a^2)^{3/2}} \pi b^2 \approx \frac{\mu_0 I_1}{2} \frac{a^2}{x^3} \pi b^2$$

der vi har brukt resultatet i a) og tilnærmet idet $a \ll x$.



Indusert ems. er gitt ved Faradays lov og definisjon gjensidig induktans M (formelark):

$$\mathcal{E} = -\dot{\Phi}_{12} \stackrel{\text{def}}{=} -M \dot{I}_1 \quad \Rightarrow \quad \underline{M = \frac{\dot{\Phi}_{12}}{\dot{I}_1} = \frac{\mu_0}{2} \frac{a^2}{x^3} \pi b^2.}$$

c) Når den andre sløyfa roterer vil magnetisk fluks gjennom sløyfa variere med $\cos \omega t$:

$$\mathcal{E}_2 = -\dot{\Phi}_{12} = -\frac{d}{dt} (B_x \pi b^2 \cdot \cos \omega t) = -B_x \pi b^2 \cdot \frac{d}{dt} (\cos \omega t) = B_x \pi b^2 \cdot \omega \sin \omega t$$

Innsatt B_x fra b) ovenfor og evt. også M fra b), får vi

$$\mathcal{E}_2 = \underline{\frac{\mu_0 I_1}{2} \frac{a^2}{x^3} \pi b^2 \cdot \omega \sin \omega t} = \underline{M \cdot I_1 \omega \sin \omega t.}$$

Oppgave 4. Magnetfelt

Feltet i origo er sum av bidrag fra hver del av sirkelen, mens de to rette lederbitene ikke gir noe bidrag til B i origo da her $I d\vec{s} \parallel \vec{r}$ i Biot-Savarts lov. For sirkelbuene er det snakk om feltet i sentrum, dvs. vi kan bruke resultatet i pkt. a) med $x = 0$:

$$B_x = \frac{\mu_0 I}{2} \frac{a^2}{a^3} = \frac{\mu_0 I}{2} \frac{1}{a}$$

og med $a = R - \Delta R$ og $a = R + \Delta R$ for henholdsvis indre og ytre sirkelbue. Ytre sirkelbue gir B i $\hat{\mathbf{i}}$ -retning, indre B i $-\hat{\mathbf{i}}$ -retning. Hver bue utgjør en andel $\frac{\ell}{2\pi R}$ av en hel sirkel. Dermed blir totalfeltet lik

$$B_x = \frac{\ell}{2\pi R} \cdot \frac{\mu_0 I}{2} \left(\frac{1}{R + \Delta R} - \frac{1}{R - \Delta R} \right) = \frac{\ell}{2\pi R} \cdot \frac{\mu_0 I}{2} \frac{R - \Delta R - R - \Delta R}{(R - \Delta R)(R + \Delta R)} = \frac{\ell}{2\pi R} \cdot \frac{\mu_0 I}{2} \cdot \frac{-2\Delta R}{R^2 - (\Delta R)^2}.$$

Som med $\Delta R \ll R$ gir

$$\underline{\vec{B} = -\frac{\mu_0 I}{2\pi R} \cdot \frac{\ell \Delta R}{R^2} \hat{\mathbf{i}}.}$$

Arealet av strømsløyfesegmentet er $A = \ell \cdot 2\Delta R$, slik at magnetisk dipolmoment er $\underline{\vec{\mu} = IA \hat{\mathbf{i}} = I 2\ell \Delta R \hat{\mathbf{i}}}$. Antakelsen $\ell \ll R$ trenger vi ikke i besvarelsen.

Arealet kan evt. beregnes:

$$A = \frac{\ell}{2\pi R} (\pi(R + \Delta R)^2 - \pi(R - \Delta R)^2) = \frac{\ell}{2R} (R^2 + 2R\Delta R + (\Delta R)^2 - (R^2 - 2R\Delta R + (\Delta R)^2)) = \frac{\ell}{2R} (4R\Delta R) = 2\ell \Delta R$$

Alternativt til å nytte resultatet i a) er å bruke Biot-Savart. For ytre bue med lengde $\ell_2 = \ell \cdot \frac{R + \Delta R}{R}$ og radius $r_2 = R + \Delta R$ får vi

$$\vec{B}_2 = \frac{\mu_0 I}{4\pi} \int_0^{\ell_2} \frac{d\vec{s} \times \vec{r}}{r^3} = \frac{\mu_0 I}{4\pi} \int_0^{\ell_2} \frac{ds r}{r^3} \hat{\mathbf{i}} = \frac{\mu_0 I}{4\pi} \frac{\ell_2}{r_2^2} \hat{\mathbf{i}} = \frac{\mu_0 I}{4\pi R} \frac{\ell}{R + \Delta R} \hat{\mathbf{i}},$$

der \vec{r} peker mot sentrum og alltid $\perp d\vec{s}$. Tilsvarende for indre bue med $R - \Delta R$, og totalt:

$$\vec{B} = \frac{\mu_0 I}{4\pi R} \frac{\ell}{R + \Delta R} \hat{\mathbf{i}} + \frac{\mu_0 I \ell}{4\pi R} \frac{\ell}{R - \Delta R} (-\hat{\mathbf{i}}) = \frac{\mu_0 I \ell}{4\pi R} \left(\frac{1}{R + \Delta R} - \frac{1}{R - \Delta R} \right) \hat{\mathbf{i}}$$

osv. som over.

Oppgave 5. Elektrostatisk energi

E -feltet mellom kuleskallene er gitt ved $E(r) = \frac{1}{4\pi\epsilon_0} \cdot \frac{Q}{r^2}$, ellers null. Potensiell energi per volumenheter er

$$u = \frac{1}{2} \vec{D} \cdot \vec{E} = \frac{1}{2} \epsilon_0 E^2 = \frac{1}{2} \epsilon_0 \cdot \left(\frac{1}{4\pi\epsilon_0} \right)^2 \cdot \frac{Q^2}{r^4}.$$

Med volum $d\tau = 4\pi r^2 dr$ for kuleskall integrerer vi opp total potensiell energi:

$$U = \int_a^b u \cdot 4\pi r^2 dr = \frac{1}{2} \int_a^b \frac{1}{4\pi\epsilon_0} \cdot \frac{Q^2}{r^2} dr = \frac{Q^2}{8\pi\epsilon_0} \cdot \left[-\frac{1}{r} \right]_a^b = \frac{Q^2}{8\pi\epsilon_0} \left(\frac{1}{a} - \frac{1}{b} \right) = \underline{\frac{Q^2}{8\pi\epsilon_0} \frac{b - a}{ab}}.$$

Alternativt kan energien beregnes fra potensialet mellom kuleskallene

$$V_a - V_b = - \int_b^a E(r) dr = - \frac{Q}{4\pi\epsilon_0} \int_b^a \frac{1}{r^2} dr = \frac{Q}{4\pi\epsilon_0} \left(\frac{1}{a} - \frac{1}{b} \right)$$

og energiuttrykket (i ferdig oppbygd ladning):

$$U = \frac{1}{2} Q_a V_a + \frac{1}{2} Q_b V_b = \frac{1}{2} Q (V_a - V_b) = \underline{\underline{\frac{Q^2}{8\pi\epsilon_0} \left(\frac{1}{a} - \frac{1}{b} \right)}}.$$

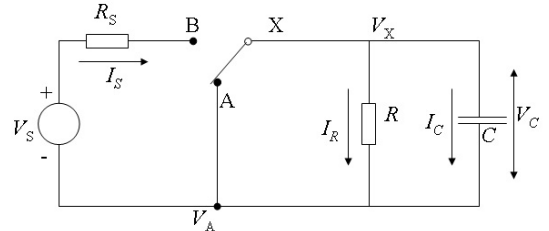
Oppgave 6. Kretser

a) Ved $t = 0^+$:

i) $\underline{V_C = 0}$ fordi kondensatoren har $V_C = 0$ ved $t \leq 0$, og spenningen $V_C = Q_C/C$ over kondensatoren kan ikke endres brått.

ii) $\underline{I_R = 0}$ fordi spenningen over R er lik spenningen over C (parallellkopling), slik at $I_R = V_R/R = 0$.

iii) $\underline{I_S} = \frac{V_S - V_C}{R_S} = \frac{10 \text{ V} - 0 \text{ V}}{10,0 \Omega} = \underline{1,00 \text{ A}}$.



iv) Kondensatoren er ladet opp til konstant V_C slik at $I_C = 0$. Da er det bare motstandene som bestemmer V_C . Strømmen gjennom både R_S og R blir $I_S = \frac{V_S}{R_S + R}$ og dermed

$$\underline{V_C} = I_S \cdot R = V_S \frac{R}{R_S + R} = 10,0 \text{ V} \cdot \frac{100}{10 + 100} = \underline{9,1 \text{ V}}.$$

b) Spenning over kondensatoren er lik V_X , altså $V_X = V_C = Q_C/C$.

i) Knutepunktlikning for øvre knutepunkt (pkt X): $\underline{I_S = I_R + I_C}$.

ii) Vi ser fra kretsen: $I_R = V_X/R$, $I_S = (V_S - V_X)/R_S$ og kondensatorstrømmen $I_C = \dot{Q}_C = C \dot{V}_C = C \dot{V}_X$. Knutepunktlikningen gir

$$\frac{V_S - V_X}{R_S} = \frac{V_X}{R} + C \dot{V}_X$$

og med enkel omforming

$$\underline{C \frac{R_S R}{R_S + R} \dot{V}_X + V_X = V_S \frac{R_S R}{R_S (R_S + R)}}.$$

Altså er tidskonstant = $\underline{\underline{\tau = C \frac{R_S R}{R_S + R} = 1,00 \mu\text{F} \cdot \frac{10 \cdot 100}{10 + 100} \Omega = 9,1 \mu\text{s}}}$ og $\underline{\underline{\gamma = \frac{R}{R_S + R} = \frac{100}{10 + 100} = 0,91}}$.