

Ren rulling på krumt underlag – energibevarelse

Energibevarelse er slagkraftige saker. Med kjennskap til baneformen $y(x)$ og den 1. og 2. deriverte, hhv $y' = dy/dx$ og $y'' = d^2y/dx^2$, kan vi enkelt bestemme diverse størrelser for et objekt som ruller på den krumme banen. Objektet har et treghetsmoment

$$I_0 = cmr^2 \quad (1)$$

mhp rotasjonsaksen, som går gjennom massesenteret (CM). Her er m objektets masse, og r er objektets radius, dvs avstanden mellom CM og kontaktpunktet mellom objekt og bane. Vi antar i fortsettelsen at objektet er ei kompakt kule med uniform massefordeling, slik at $c = 2/5$. I praksis bruker vi kuler med masse $m \simeq 31$ g og radius $r = 11$ mm, men *mål* m og r for den kula som din gruppe benytter. La oss videre anta at banens krumningsradius R overalt er mye større enn kulas radius r , slik at vi med god tilnærming kan anta at CM følger samme kurveform som banen $y(x)$ (dvs bare forskjøvet litt vertikalt).

Kula starter med null hastighet i høyde $y(0) = y_0$. Da er total mekanisk energi

$$E = U_0 = mgy_0 \quad (2)$$

når vi velger $U = 0$ for $y = 0$. Total kinetisk energi K er summen av translasjonsenergien $mv^2/2$ og rotasjonsenergien $cmv^2/2$, i det vi antar at kula ruller rent, dvs uten å gli. Dvs,

$$K = \frac{1+c}{2} mv^2 \quad (3)$$

når farten er v . Energibevarelse gir da en hastighet

$$v(y) = \sqrt{\frac{2g(y_0 - y)}{1+c}} \quad (4)$$

når kula er et sted på banen der høyden er y og potensiell energi er mgy . Siden vi kjenner baneformen $y(x)$, kan vi like gjerne oppfatte farten som en funksjon av horisontal posisjon x , dvs $v(x) = \sqrt{2g[y_0 - y(x)]/(1+c)}$. Det samme vil selvsagt gjelde for alle størrelser i fortsettelsen. Banens krumning κ , dvs den inverse krumningsradien, er

$$\kappa = \frac{y''}{[1 + (y')^2]^{3/2}}. \quad (5)$$

Da er sentripetalakselerasjonen umiddelbart gitt som

$$a_{\perp} = v^2/R = v^2\kappa = \frac{2g(y_0 - y)}{1+c} \cdot \frac{y''}{[1 + (y')^2]^{3/2}}. \quad (6)$$

Her vil κ være positiv der banen krummer oppover og negativ der den krummer nedover. Tilsvarende fortegn vil gjelde for a_{\perp} . Dette er konsistent med positiv y -retning oppover: Når banen krummer oppover, har vektoren \mathbf{a}_{\perp} også retning oppover, dvs den har en positiv y -komponent. Med $c = 2/5$ blir hastigheten

$$v = \sqrt{\frac{10g(y_0 - y)}{7}}. \quad (7)$$

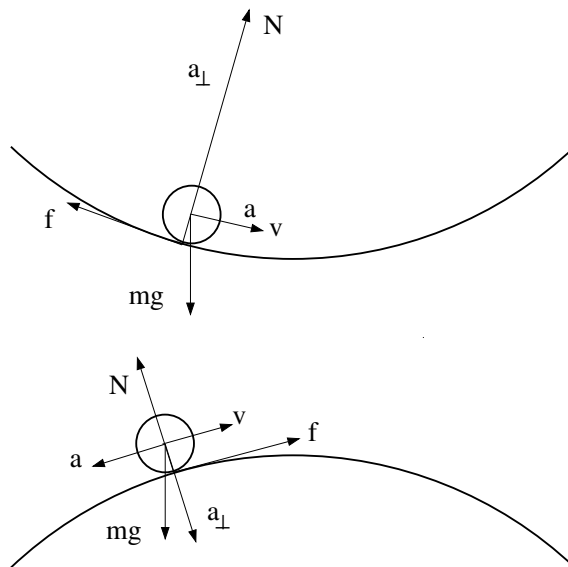
Vi ser i neste omgang på Newtons 2. lov normalt på banen. La oss velge fortegn slik at tyngdens komponent $mg \cos \beta$ peker i negativ retning mens normalkraften N virker i positiv retning. Her er β banens helningsvinkel. Da har vi

$$N - mg \cos \beta = ma_{\perp}, \quad (8)$$

enten banen krummer opp eller ned, slik at

$$N = m(g \cos \beta + a_{\perp}). \quad (9)$$

Hvis banen krummer opp, peker $a_{\perp} > 0$ i samme retning som N (dvs oppover), og N blir større enn $mg \cos \beta$. Hvis banen krummer ned, peker $a_{\perp} < 0$ i motsatt retning av N (dvs nedover), og N blir mindre enn $mg \cos \beta$.



Figur 1. Kule som ruller på et krumt underlag. Her er v kulas fart, a er baneakselerasjon, a_{\perp} er sentripetalakselerasjon, mg er tyngdekraft, f er friksjonskraft og N er normalkraft. Merk: Kraftpilenes lengde stemmer typisk ikke innbyrdes. For eksempel er mg alltid større enn f .

Det gjenstår å finne (den statiske) friksjonskraften f fra banen på den rullende kula. La oss velge helningsvinkelens fortegn slik at $\beta < 0$ når kula ruller nedover og $\beta > 0$ når den ruller oppover. Da har stigningstallet

$$y' = dy/dx = \tan \beta \quad (10)$$

riktig fortegn.

Kreftene som virker tangentielt til banen er f og tyngdens tangentialkomponent $-mg \sin \beta$. Hvis banen heller nedover, er $\beta < 0$, $f < 0$ (dvs f har retning mot venstre) og $a = dv/dt > 0$ (kula får større fart). N2 blir da

$$-mg \sin \beta + f = ma. \quad (11)$$

Og hvis det er oppoverbakke: $\beta > 0$, $f > 0$ (dvs f har retning mot høyre) og $a = dv/dt < 0$ (kula får mindre fart). N2 blir da nøyaktig som (11). Med andre ord, samme ligning, enten det er nedover- eller oppoverbakke. Fra uttrykket $v(y) = \sqrt{2g(y_0 - y)/(1 + c)}$ ovenfor finner vi baneakselerasjonen:

$$a = \frac{dv}{dt} = \frac{dv}{dy} \frac{dy}{dt} = -\frac{g \sin \beta}{1 + c}. \quad (12)$$

Her brukte vi $dy/dt = v_y = -v \sin \beta$. Med $c = 2/5$ blir $a = -5g \sin(\beta)/7$. Innsetting gir nå

$$f = ma + mg \sin \beta = \frac{c}{1 + c} mg \sin \beta, \quad (13)$$

eller $f = 2mg \sin(\beta)/7$ for den kompakte kula.

Vi har her *forutsatt* at kula ruller rent, dvs uten å gli (slure) på underlaget. Den beregnede statiske friksjonskraften f kan imidlertid ikke overstige sin maksimale verdi, gitt ved $|f| = \mu_s |N|$. Her er μ_s den statiske friksjonskoeffisienten mellom kule og bane. Overflaten på de svarte datamus-kulene er en slags gummi. Banen er en type hard plast, trolig polyetylen eller polypropylen. Det er vel rimelig å anta at verdien av μ_s vil være minst 0.4 eller deromkring. For en gitt baneform kan en plote størrelsen $|f/N|$ (evt skrive ut maksimumsverdien av $|f/N|$) og sjekke at antagelsen om ren rulling er oppfylt.

Tidsutviklingen

Når prinsippet om bevaring av mekanisk energi utledes fra Newtons 2. lov, forsvinner tidsaspektet på magisk vis. Dvs, tiden t inngår ikke lenger i ligninger og uttrykk. Dermed må vi som regel tilbake til Newtons 2. lov dersom vi ønsker å bestemme tidsutviklingen, dvs kulas posisjon (og eventuelt andre størrelser) som funksjon av t . Vi skal skissere hvordan dette kan gjøres numerisk, med en enkel og lettfattelig metode ("forward Euler"). I vårt konkrete problem, der kula er tvunget til å rulle på en bane med en bestemt form $y(x)$, er det en enda enklere måte å bestemme tidsutviklingen på: Energibevarelse gir oss hastigheten v uttrykt som en funksjon av høyden y , og dermed som en funksjon av kulas horisontale posisjon x , via baneformen $y(x)$. Da er tiden dt som kula bruker på en liten horisontal forflytning dx direkte gitt som $dt = dx/v_x$, for hastighetens komponent i x -retningen er jo *definert* som $v_x = dx/dt$.

Metode 1: Newtons 2. lov og forward Euler (med fast tidssteg dt)

Vi tok utgangspunkt i Newtons 2. lov og fant at kulas baneakselerasjon er $a = -(5g/7) \sin \beta$ når banens helningsvinkel er β . Banens form $y(x)$ og stigningstallet $dy/dx = \tan \beta$ er kjente størrelser. Med andre ord, vi kjenner $\beta = \arctan(dy/dx)$ og dermed a langs hele banen. Ideen i Eulermetoden er da slik: Anta at kula starter i posisjon (x_0, y_0) med starthastighet $v_0 = 0$ ved tidspunktet $t_0 = 0$. Siden $a = dv/dt$, vil kula i løpet av et lite tidssteg dt endre sin hastighet med $dv = a dt$. Og siden $v = ds/dt$, vil kula i løpet av tiden dt endre sin posisjon (langs banen) med $ds = v dt$. Med de aktuelle startbetingelsene gir dette mellom $t_0 = 0$ og $t_1 = dt$ en forflytning $v_0 dt = 0$ og en hastighetsendring $-(5g/7) \sin \beta_0 dt$, slik at $x_1 = x_0$, $y_1 = y_0$ og $v_1 = -(5g/7) \sin \beta_0 dt$. Siden kula ikke flyttet seg i det første tidssteget, har vi selvsagt fremdeles samme helningsvinkel, dvs $\beta_1 = \beta_0$. I tidssteg nr 2 blir forflytningen langs banen $ds_2 = v_1 dt$, forflytningen horisontalt $dx_2 = ds_2 \cos \beta_1$, og ny horisontal posisjon blir $x_2 = x_1 + dx_2 = x_1 - (5g/7) \sin \beta_1 \cos \beta_1 (dt)^2$. Ny vertikal posisjon kan fastlegges fra baneformen: $y_2 = y(x_2)$. Litt mer generelt: Når posisjonen (x_n, y_n) og hastighetens horisontale komponent $v_{x,n}$ ved tidspunktet $t_n = n dt$ er kjent, har vi

$$\begin{aligned} x_{n+1} &= x_n + v_{x,n} dt \\ y_{n+1} &= y(x_{n+1}) \\ v_{n+1} &= v_n + a_n dt \\ t_{n+1} &= (n+1) dt \end{aligned}$$

ved neste tidspunkt t_{n+1} . Dette gjentar vi inntil vi har kommet fram til ønsket maksimale horisontale posisjon.

Metode 2: *Energibevarelse og $dt = dx/v_x$ (med fast horisontalt steg dx)*

Notebooken `baneform_V23.ipynb` beregner $y(x)$ for 1401 jevnt fordelte x -verdier, dvs for hver hele mm, fra og med $x_0 = 0$ til og med $x_{1400} = 1400$ mm. Hastigheten v_n og helningsvinkelen β_n i posisjon (x_n, y_n) er kjente størrelser. Da kan vi regne ut hvor lang tid Δt_n kula har brukt på intervallet mellom x_{n-1} og x_n ($n = 1, 2, \dots, 1400$). Horisontal komponent av hastigheten i posisjon x_n er $v_{x,n} = v_n \cos \beta_n$. Gjennomsnittlig horisontalkomponent av hastigheten på intervall nr n er da (med god tilnærming)

$$\langle v_x \rangle_n = \frac{1}{2} (v_{x,n-1} + v_{x,n}). \quad (14)$$

Fra den grunnleggende definisjonen $\langle v_x \rangle_n = \Delta x_n / \Delta t_n$ har vi dermed

$$\Delta t_n = \frac{\Delta x_n}{\langle v_x \rangle_n} = \frac{2\Delta x_n}{v_{x,n-1} + v_{x,n}}, \quad (15)$$

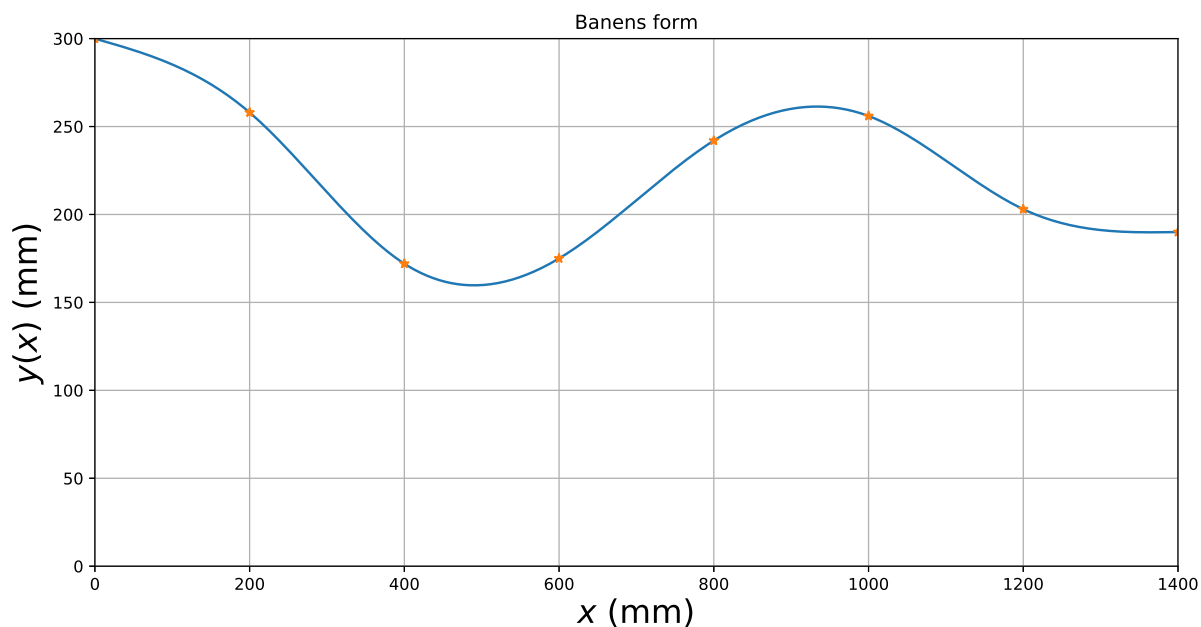
med konstant horisontalt steg $\Delta x_n = x_n - x_{n-1} = 1$ mm. Kula (dvs kulas massesenter) starter i posisjon (x_0, y_0) med starthastighet $v_0 = 0$ ved tidspunktet $t_0 = 0$ og passerer posisjonene (x_n, y_n) med hastigheter v_n ved tidspunktene

$$t_n = \sum_{j=1}^n \Delta t_j \quad ; \quad n = 1, \dots, 1400. \quad (16)$$

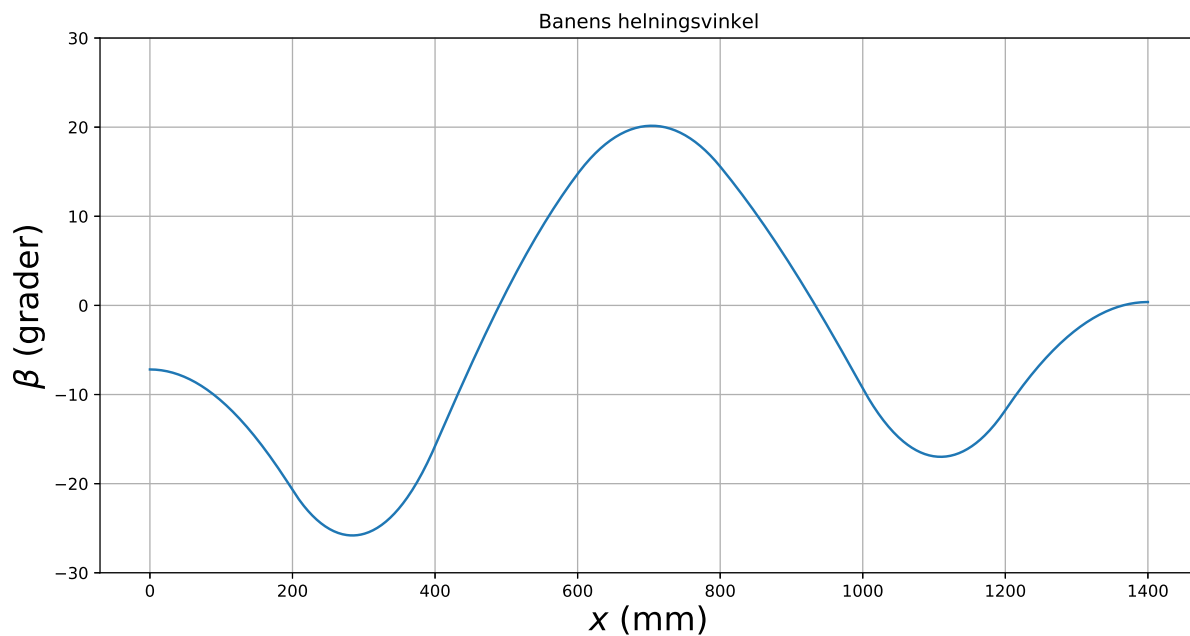
Velg selv om dere vil bruke den ene eller den andre metoden for å bestemme tidsutviklingen, og dermed hvor lang tid kula bruker på å rulle fra start til mål.

Eksempel

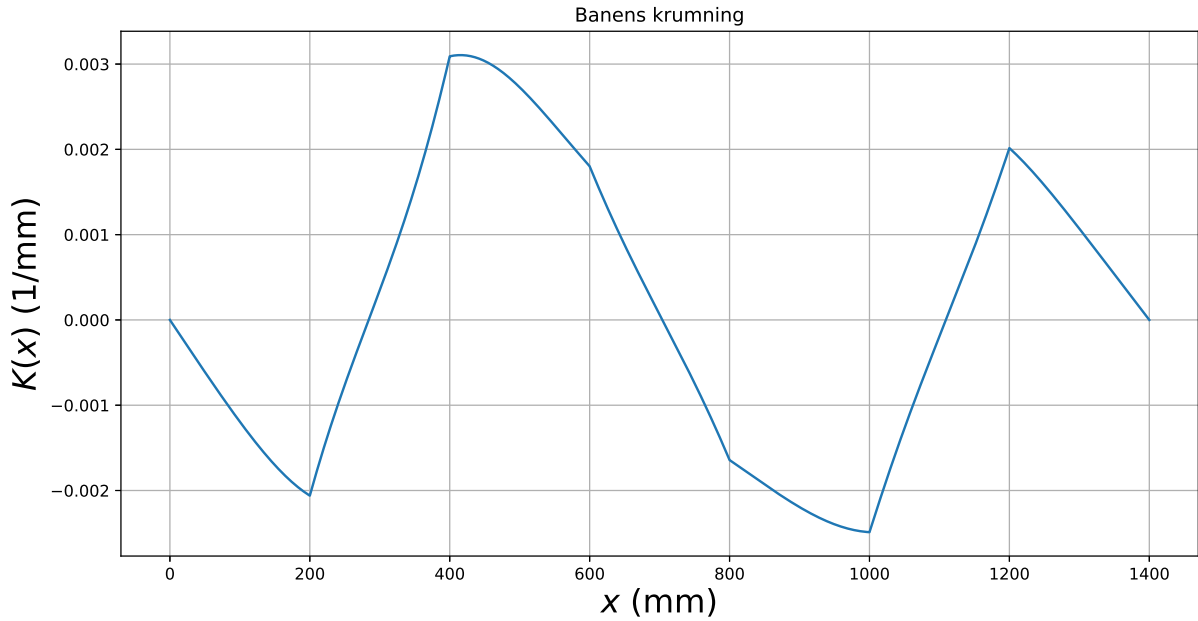
En bane $y(x)$ kan se slik ut:



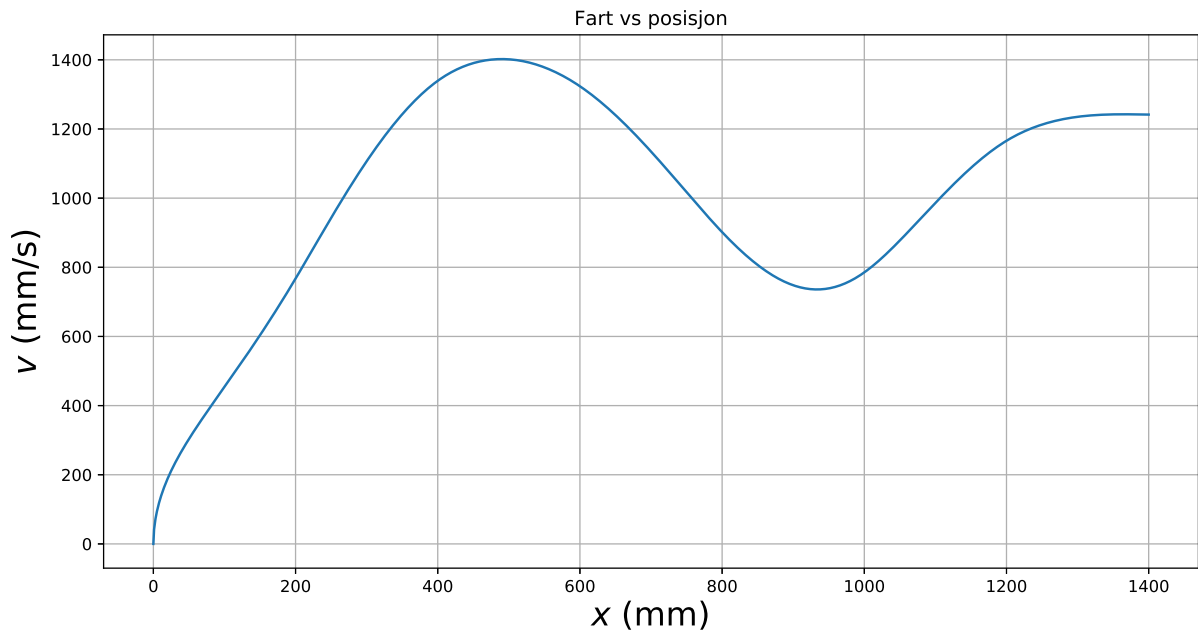
Her er starthøyden $y_0 = 300$ mm. Laveste festepunkt, ved $x = 600$ mm, er i høyden $y = 176$ mm. Banens helningsvinkel β overstiger ikke 22.0° i absoluttverdi:



Banens krumning overstiger ikke verdien 3 pr m (i absoluttverdi), slik at minste krumningsradius er ca 330 mm, og dermed my større enn kulas radius langs hele banen:

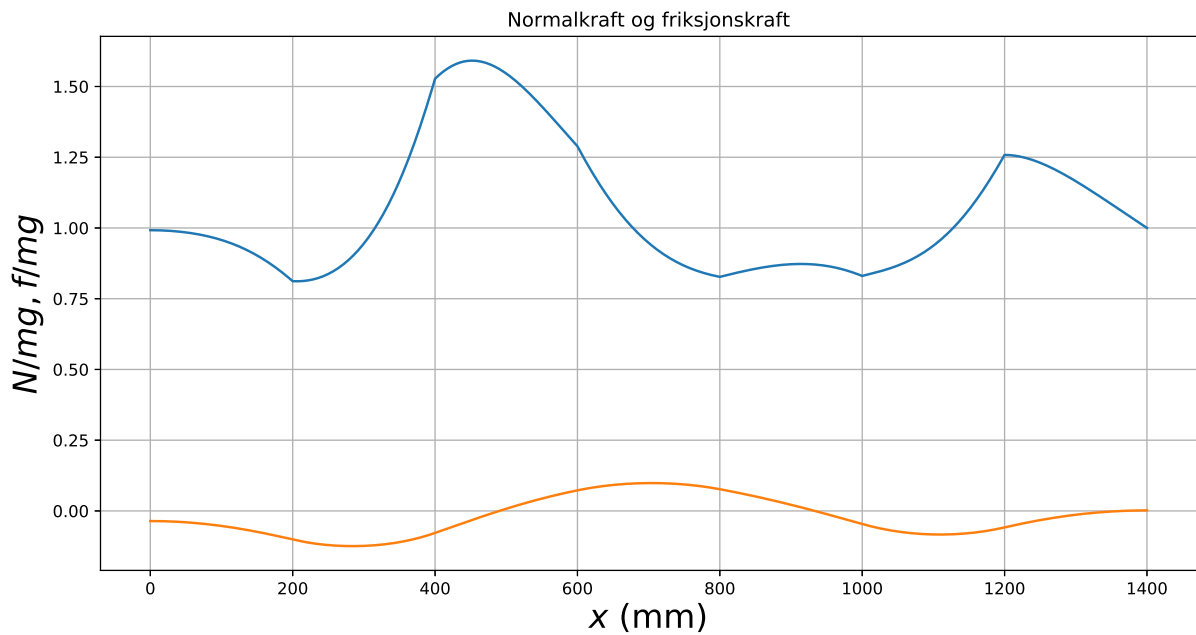


Fartsgrafen $v(x)$ ser slik ut:

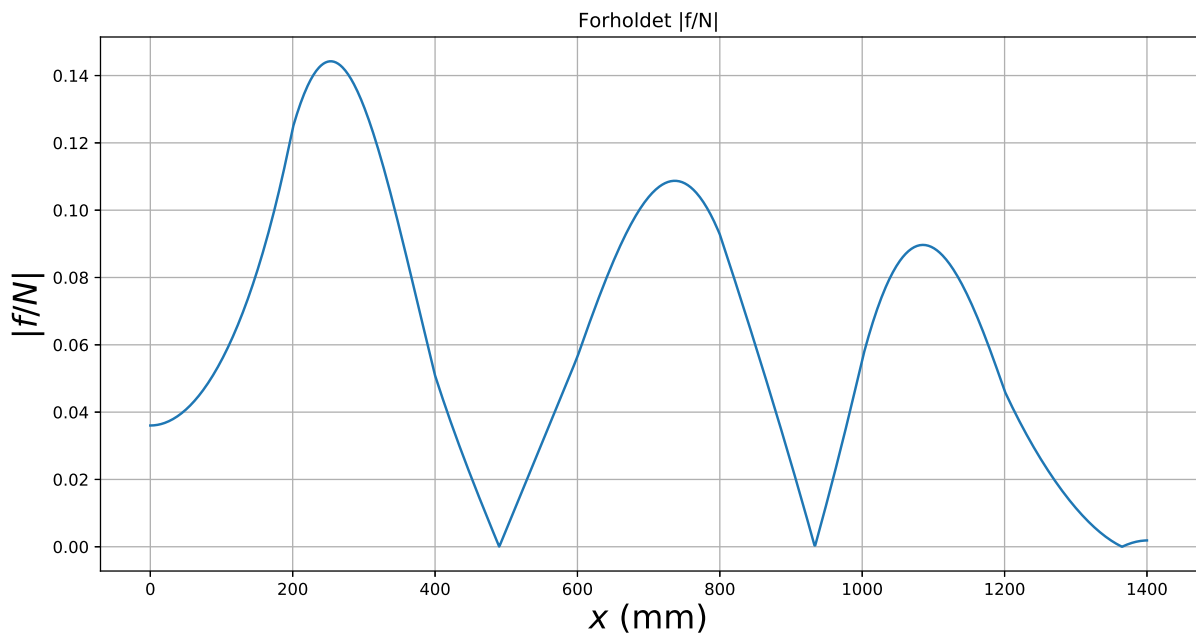


Maksimal hastighet oppnås som ventet i banens bunnpunkt, ved $x \simeq 500$ mm.

Grafene for normalkraften $N(x)$ og friksjonskraften $f(x)$ (her i enheter av kulas tyngde mg):



Forholdet mellom friksjonskraften f og normalkraften N overstiger ikke verdien 0.12:



Dvs, dersom statisk friksjonskoeffisient er større enn 0.12, forventer vi at kula ruller rent uten å gli på denne banen.

Hele reisen tok ca 1.71 sekunder.